


Règles du jeu

Vous devez placer des nombres dans la grille en respectant les règles suivantes :

①

Vous devez utiliser les nombres qui sont en haut à gauche de chaque défi.




A 4x4 grid puzzle on a blue background with fish. The top-left cell contains the text "1 à 4" circled in red. The grid contains the following numbers:

1 à 4	1	2		3
		3	1	4
	4		3	2
	3	4	2	

②

Chaque ligne et chaque colonne doit contenir tous les nombres.

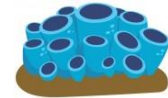


A 4x4 grid puzzle on a blue background with fish. The top-left cell contains the text "1 à 4". The grid contains the following numbers:

1 à 4	1	2	4	3
	2	3	1	4
	4	1	3	2
	3	4	2	1

1 à 5

1	2		3	
2	3	1		4
		5	2	3
3	5	2		1
	4		1	



1 à 5

5		3	2	
1	4			3
	5	1	3	2
2		5		1
	2	4	1	



1 à 5

2		4		
3	5		4	2
	2	3	1	
1		5		3
	1		3	5



1 à 5

	5	2		4
2			4	3
4	2	3		5
3		1	5	
	3		2	1



1 à 6

1		4	3		5
2	3	1	5		
	1		2	3	
4		2		5	3
	5				2
5		3	6	2	



1 à 6

	1	6		4	5
1	3		4		2
2		4		1	6
	6	2	1	5	
6		1	5		4
5	4			2	1



1 à 6

			4	6	3
3	4	6	1		
	5			3	6
6		3	5		4
	3	1		4	2
4	6		3		



1 à 6

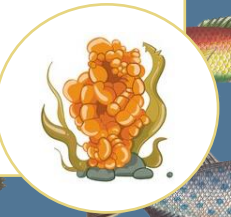
		4	3		5
3	4		1	5	
6		5		3	
2	5		6		
	6	3			
4		6		2	1



1 à 7		2			1 7 5
1		7 2			
2 7			5		3
		2 5		3 7	
7 3		6			
3				4 2 6	
	4 6 3			1	



1 à 7	1		3 4		7	
2			1			7
	4		2 6 1			
7		2			6 4	
	5 1		7		2	
6 7			1		5	
		5 7 2 3				



1 à 7		6 2			3 1
	3		7 5 6		
6			4 1 7		
1		4 6			5
3 4			2		6
5 1 3				4	
		6 3		1 4	



1 à 7	1 2			7		5
2		3 1 5				
	3		2		6 7	
	7 2 3 4					
6				2 5 3		
3 4 7				2		
		1 6		4 2		

